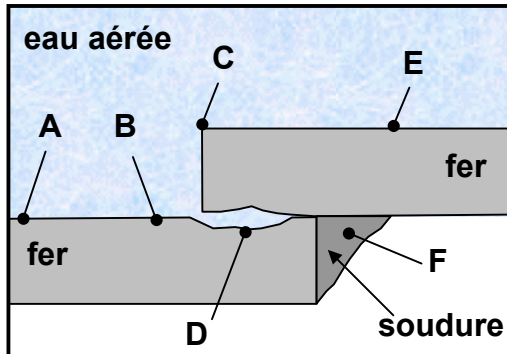


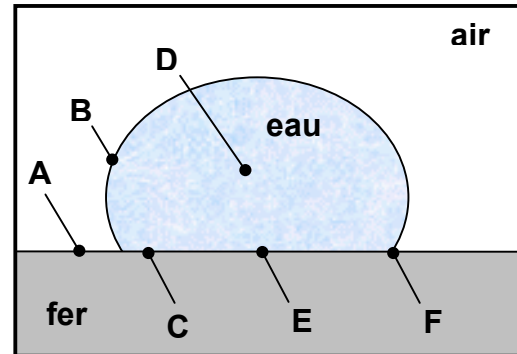
Chapitre 8 – Dégradation des matériaux

EXERCICE 8-3

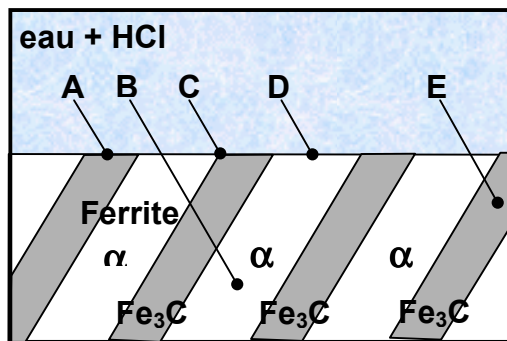
Considérez les quatre figures suivantes (1, 2, 3, 4) qui présentent des cas typiques de corrosion.



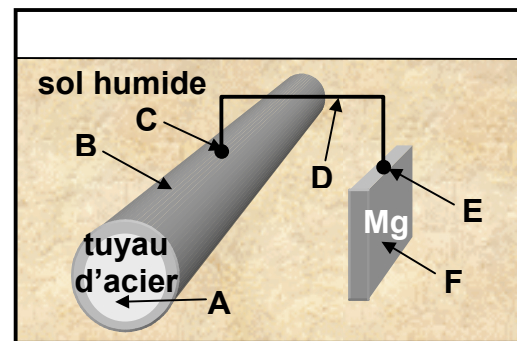
Cas 1



Cas 2



Cas 3



Cas 4

- Pour chacun de ces cas, dites quel est le mode de corrosion?
- Pour chacun de ces cas, quelles sont les zones (repérées par une lettre) qui sont le siège de la réaction anodique et celui de la réaction cathodique.